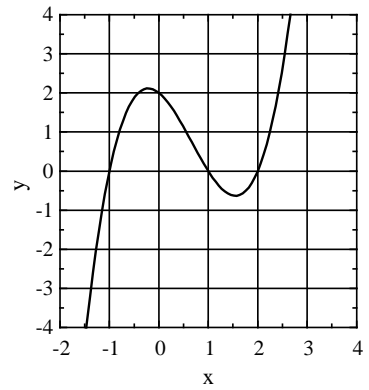
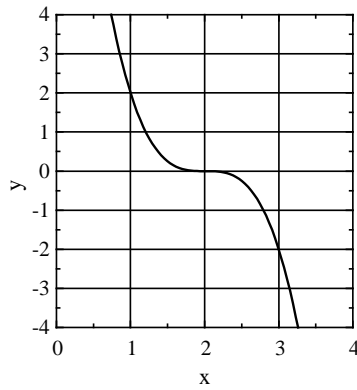
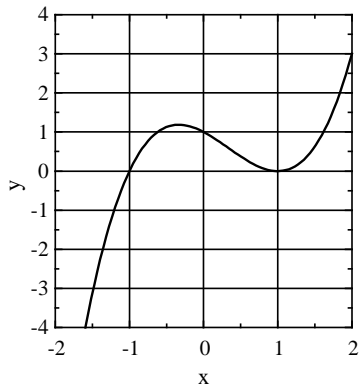


Aufgaben zur Mathematik, BG 11, Blatt 5

Aufgabe 1: Geben Sie die Funktionsgleichungen der ganzrationalen Funktionen 3. Grades in Normalform an.



Aufgabe 2: wie Aufgabe 1 für die ganzrationalen Funktionen 4. Grades

